



Compétences	Exercices	Acquisition
Nommer, lire, écrire, représenter des nombres entiers	1, 2, 4	NA/PA/A
Calculer avec des nombres entiers	3, 5	NA/PA/A
Résoudre des problèmes en utilisant des nombres entiers et le calcul	6	NA/PA/A
(Se) repérer et (se) déplacer dans l'espace en utilisant ou en élaborant des représentations	7	NA/PA/A
Résoudre des problèmes impliquant des longueurs, des masses, des contenances, des durées, des prix	8	NA/PA/A

1



Ecris les nombres dictés en chiffres:

✉	✂	↑	✋	●	✍
---	---	---	---	---	---

2



Ecris les nombres en lettres :

5 : .....

6 : .....

8 : .....

10 : .....

3



Colorie deux par deux les boules qui font 10 (Change de couleur à chaque paire) :

10 2 8 0 4

9 6 5 3 1

5 7

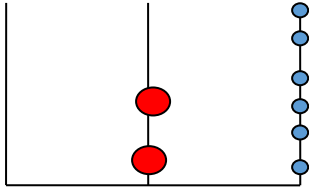
4



Complète comme le modèle :



26



 $20 + 6$ 

34



.....

50



.....

5


 $3 + 2 = 5$ 

Calcule :

$5 + 4 = \dots$

$2 + 4 = \dots$

$8 - 3 = \dots$

$4 - 2 = \dots$

$1 + 7 = \dots$

$5 + 2 = \dots$

$7 - 1 = \dots$

$9 - 1 = \dots$

$8 + 3 = \dots$

$1 + 9 = \dots$

$5 - 4 = \dots$

$8 - 5 = \dots$

$7 + 7 = \dots$

$4 + 4 = \dots$

$3 + 3 = \dots$

$8 + 8 = \dots$

6



Ecoute bien ce problème et écris la réponse :

Nina fait un bouquet de 15 fleurs, mais 3 sont fanées : elle les jette.

Combien lui reste-t-il de fleurs?


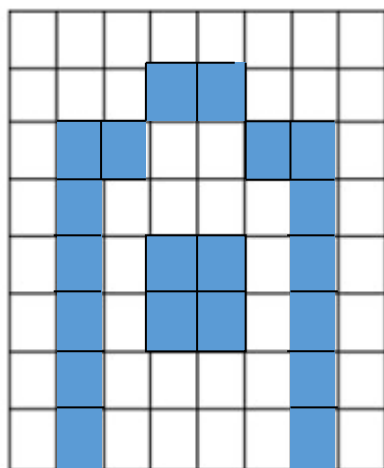


Hugo a 10 cartes "Pokemon", sa maman lui en achète 5 nouvelles.  
Combien en a-t-il en tout ?

7




Reproduis le quadrillage à l'identique :



8



Utilise la monnaie proposée pour réaliser la somme demandée :



28€



42€