

Compétences évaluées :	Exercices	NA	PA	A
Comprendre et utiliser des nombres entiers pour dénombrer, ordonner, repérer, comparer	5, 6, 7			
Nommer, lire, écrire, représenter des nombres entiers	1, 2, 3, 9			
Calculer avec des nombres entiers	4			
Résoudre des problèmes en utilisant des nombres entiers et le calcul	8			

1



(Les exercices A à C sont faits à l'oral, avec la maîtresse.)

A- Récite la comptine numérique

- Jusque.....
- A partir de 5
- Jusque 25, en s'arrêtant à 25 tout seul

B- Lis des nombres

➤ Lis seul 5 nombres montrés par la maitresse entre 0 et 20

➤ Lis seul 5 nombres montrés par la maitresse entre 20 et 40











C- Compte de 2 en 2

De 0 à 12 au moins

2



Ecris les nombres dictés en chiffres :

3



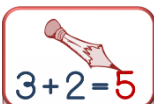
Ecris en lettres les nombres :

1 :

2 :

3 :

4



Calcule:

$2 + 1 = \dots$

$3 + 1 = \dots$

$1 + 1 = \dots$

$2 + 2 = \dots$

$3 + 3 = \dots$

$4 + 4 = \dots$

$2 + 4 = \dots$

$3 + 2 = \dots$

$7 + 2 = \dots$

$8 + 3 = \dots$

5



Complète avec < ou >

6 . . . 4

8 . . . 11

13 . . . 9

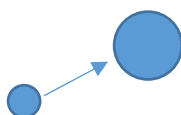
30 . . . 29

6



Range les 3 nombres dans l'ordre :



25 - 7 - 16



7



Compte le nombre de voitures :



8



Ecoute bien ce problème et écris la réponse

Un enfant avait 6 bonbons. La maitresse a donné 2 bonbons.

Maintenant, combien l'enfant a-t-il de bonbons ?

9



Complète la fleur du nombre :

